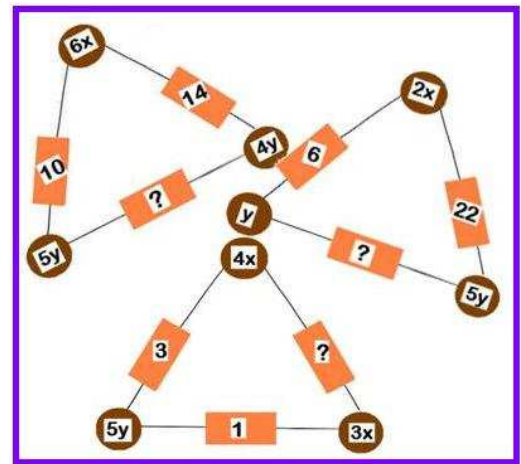


SISTEMAS DE ECUACIONES CON TRIÁNGULOS 1

Método de reducción



Actividad

En estos tres triángulos, la suma de las expresiones dentro de los círculos se escribe en el rectángulo en el medio.

Por ejemplo la ecuación:

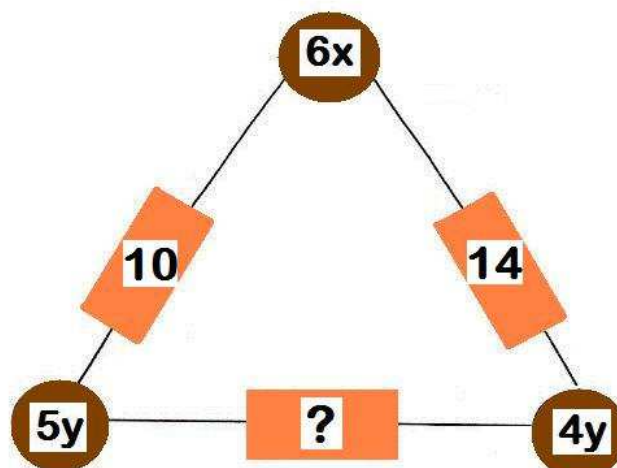
$$6x + 5y = 10$$

se representa:

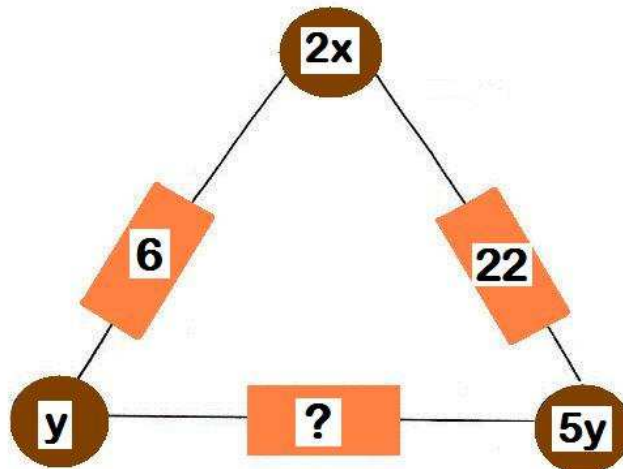


Resuelve los tres sistemas correspondientes utilizando el método de reducción.. Cuando tengas los valores para las incógnitas x e y , coloca en la casilla con una interrogación el valor correcto que falta.

Sistema 1



Sistema 2



Sistema 3

